

**CONCURSUL NAȚIONAL DE GEOGRAFIE**  
**„TERRA – MICA OLIMPIADĂ DE GEOGRAFIE”**  
**ETAPA LOCALĂ - Ediția a X-a, 10.02.2024**  
**CLASA a VI-a**

Varianta 1

- Toate subiectele sunt obligatorii. Se acordă 10 puncte din oficiu.
- Timpul efectiv de lucru este de 90 de minute.

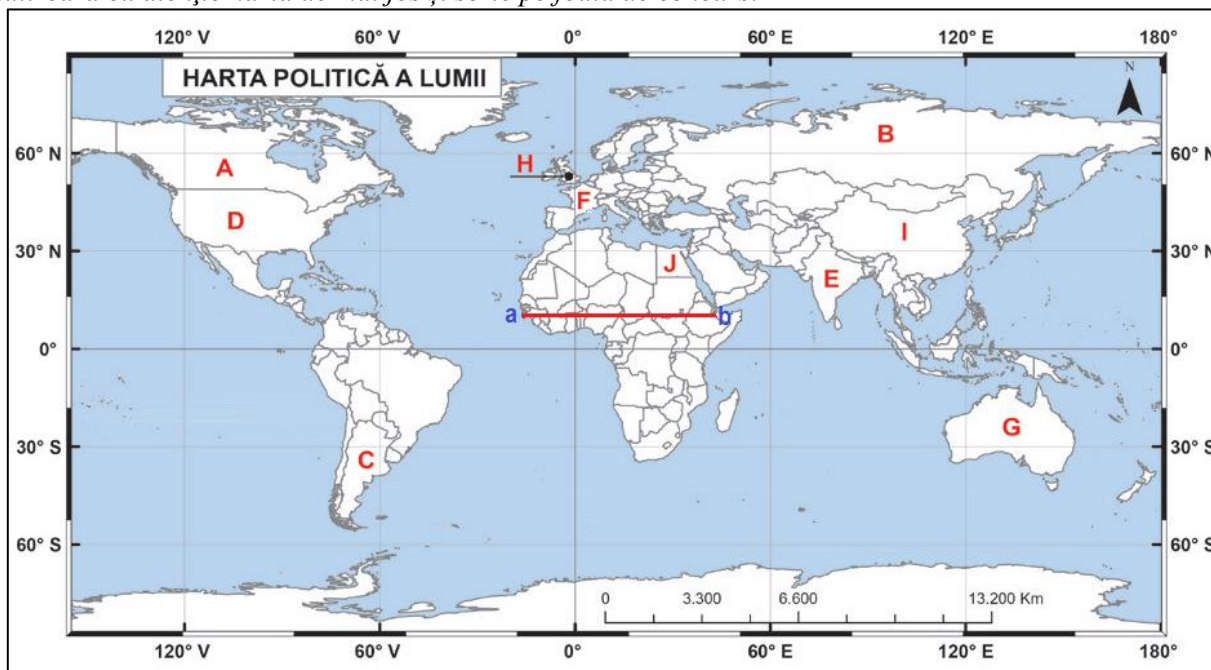
**SUBIECTUL I ..... (16 puncte)**

*Scrieți, pe foaia de concurs, informația corectă care completează informațiile de mai jos:*

1. Primul român care a ajuns în Antarctica, în calitate de biolog al expediției științifice ” Belgica”, este ...
2. Este considerat întemeietorul geografiei, vestitul istoric și geograf antic grec, numit ...
3. Cel mai nordic stat al spațiului geografic cunoscut sub numele de ” America Latină” este ...
4. Calea maritimă dintre Europa și Asia a fost descoperită de către...
5. Al doilea cel mai mic stat din lume este ...
6. Everestul a fost cucerit pentru prima dată în anul ...
7. La o natalitate de 28‰ și o mortalitate de 9‰ bilanțul (sporul natural) este de ...
8. Cea mai estică monarhie a Asiei este ...

**SUBIECTUL II.....(24 puncte)**

*Analizează cu atenție harta de mai jos și scrie pe foaia de concurs:*



1. numele statelor marcate, pe hartă, cu literele A, B, C, D, E, F, G, H, I și J;
2. numele statului insular, dintre cele marcate pe hartă cu litere, traversat de meridianul 0°;
3. numele statului, dintre cele marcate pe hartă cu litere, în care se află megalopolisul BOSWASH;
4. numele statului, dintre cele marcate pe hartă cu litere, care are ieșire la Oceanul Pacific, Oceanul Atlantic și Oceanul Arctic;
5. numele statului, dintre cele marcate pe hartă cu litere, în care religia dominantă este cea islamică;
6. numele statului, dintre cele marcate pe hartă cu litere, pe teritoriul căruia se intersectează paralela de 30° lat. S cu meridianul de 60° long. V;
7. numele statului care se află pe locul trei în lume ca suprafață;
8. distanța, în kilometri, dintre punctele a și b, folosind scara grafică;

**SUBIECTUL III..... (20 puncte)**

Pe harta de mai jos sunt marcate anumite state cu litere de la **A** la **O**. Scrie pe foaia de concurs informația corectă care completează afirmațiile de mai jos:

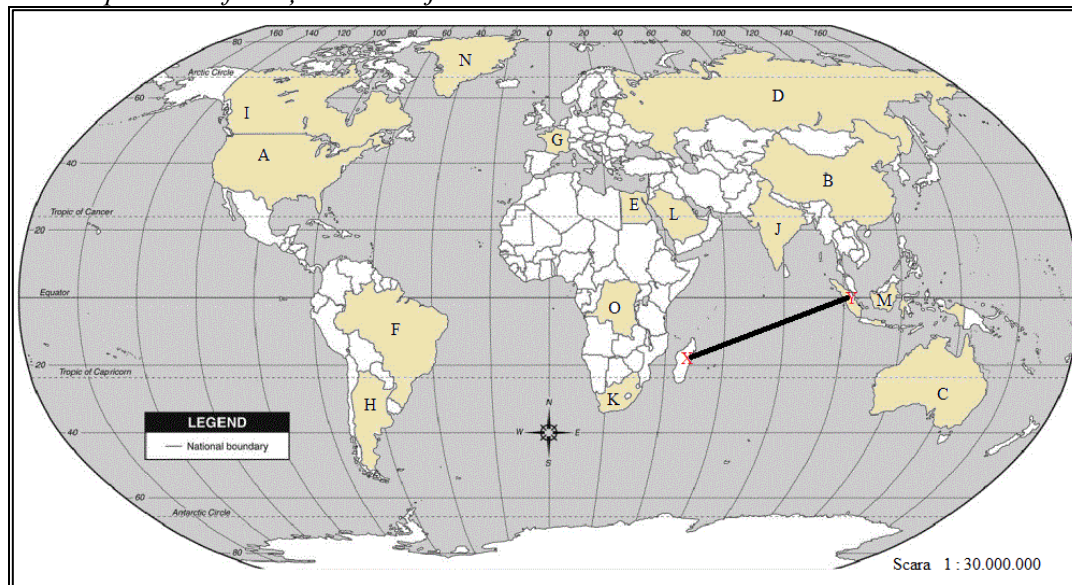


Figura 1. Harta politică a Lumii


1. Stat situat pe continentul cu cel mai rapid ritm de creștere a populației, fostă colonie belgiană, este marcat pe hartă cu litera ... .
2. Megalopolisul situat la granița dintre statele marcate cu literele **A** și **I** se numește ... .
3. Exclava a statului marcat pe hartă cu litera **A**, traversată de Cercul Polar de Nord, se numește ... .
4. Insula marcată pe hartă cu litera **N**, este un teritoriu dependent de țara europeană numită ... .
5. Cel mai mare număr de vorbitori de limbă portugheză se găsesc în statul marcat pe hartă cu litera ... .
6. Statul insular situat la sud de Tropicul Capricornului și traversat de paralela de 40° lat. sudică este ... .
7. Capitala statului care se suprapune celui mai mare arhipelag din lume se numește ... .
8. Singura monarhie dintre statele selectate pe hartă este marcată cu litera ..... și se numește ... .
9. Cel mai mare producător mondial de cărbune este statul marcat pe hartă cu litera ... .
10. Megalopolisul din care fac parte orașele situate pe țărmul sudic al statului marcat cu litera **G** se numește ... .
11. Țara asiatică situată la NE de statul marcat pe hartă cu litera **E**, cu ieșire la Marea Mediterană și Marea Roșie, are religia ... .
12. Linia marcată pe hartă (între punctele X și Y) are o extindere în latitudine de aproximativ ... .
13. Religia islamică este răspândită în statele marcate pe hartă cu literele ..., ... și ... .
14. În imaginile de mai jos sunt prezentate capitalele sau mari orașe din statele marcate pe hartă cu literele **A**, **B**, **E** și **G**. Identificați aceste state și scrieți asocierea corectă dintre imagini și state, după modelul 5 – P.





**SUBIECTUL IV..... (16 puncte)**

Imaginile de mai jos reprezintă diferite tipuri de lăcașuri de cult (notate cu cifre de la 1 la 4), specifice unor religii din lume și statelor notate pe hartă cu litere de la A la D. Imaginile notate cu literele a, b, c, d reprezintă diferite grupe rasiale/rase umane. Analizați harta și imaginile și precizați:



1. Religia specifică fiecăreia dintre imaginile, notate, cu cifrele 1, 2, 3, 4;
2. Denumirea lăcașelor de cult pentru fiecare dintre imaginile notate cu cifrele 1, 2, 3, 4;
3. Denumirea rasei umane pentru fiecare dintre imaginile notate cu literele b și c, precum și o trăsătură care definește fiecare dintre cele două rase/grupe rasiale identificate;
4. Corespondența corectă dintre stălele notate pe hartă cu litere de la A la D și imaginile notate cu cifrele 1,2,3,4 și respectiv literele a,b,c,d, după modelul : literă mare-cifră-literă mică.

**SUBIECTUL V..... (14 puncte)**

Analizează hărțile de mai jos, notate cu cifrele 1 și 2 și răspunde cerințelor:

1. Precizați tipurile de hărți, după conținutul acestora, pentru hărțile notate cu 1 și 2;
2. Precizați tipul de scară a hărții/scară de proporție pentru hărțile notate cu 1 și 2;
3. Folosind scara de proporție a hărții notată cu 1, calculați distanța reală (în km) dintre punctele marcate cu literele A și B, știind că pe hartă aceasta este de 2 cm.
4. Scrieți cifra corespunzătoare hărții cu scara mai mare;
5. Precizați denumirea teritoriului reprezentat în harta notată cu cifra 2.
6. Precizați orientarea segmentului dintre punctele notate cu literele A și B.

