



**CONCURSUL NAȚIONAL DE GEOGRAFIE  
„TERRA – MICA OLIMPIADĂ DE GEOGRAFIE”  
ETAPA LOCALĂ - Ediția a X-a, 10.02.2024  
CLASA a VII-a**

**Varianta 1**

- Toate subiectele sunt obligatorii. Se acordă 10 puncte din oficiu.
- Timpul efectiv de lucru este de 90 de minute.

**SUBIECTUL I**

**(20 puncte)**

**Scrieți, pe foaia de concurs, litera corespunzătoare răspunsului corect, pentru fiecare dintre afirmațiile de mai jos:**

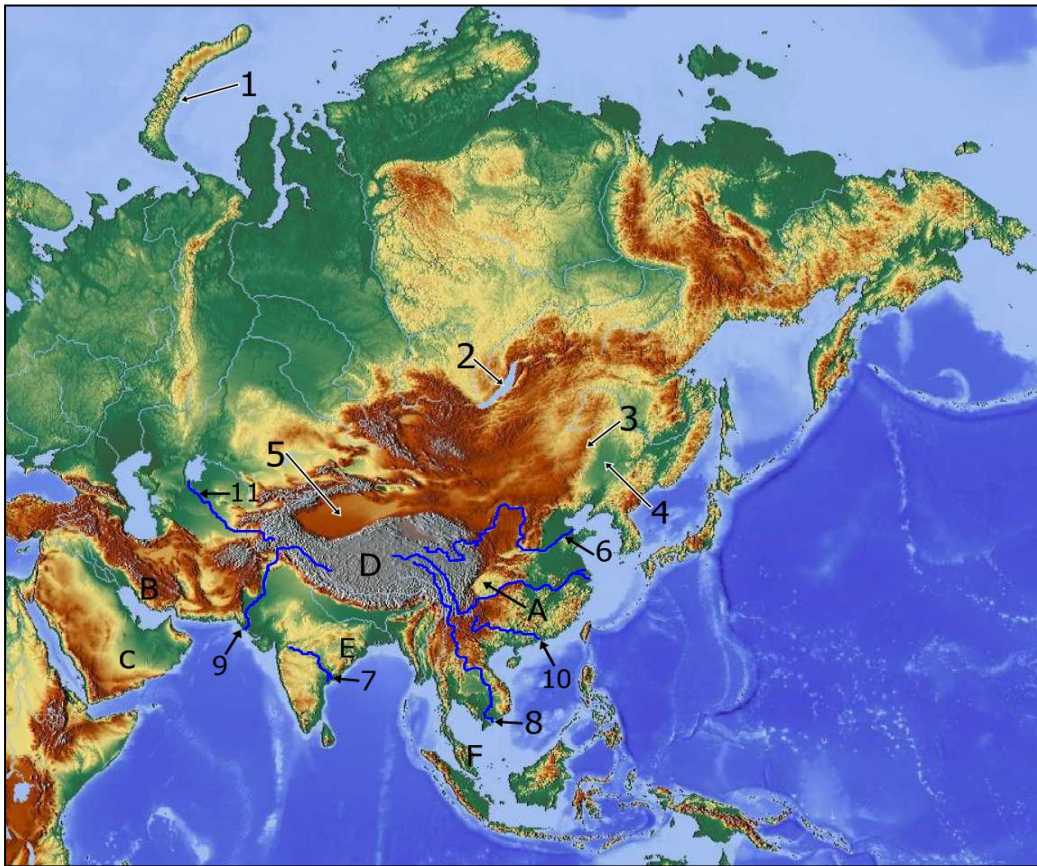
1. Cel mai mare oraș asiatic aflat pe o insulă este:  
a. Beijing                      b. Mumbai                      c. Shanghai                      d. Tokio
2. Peninsulele India și Indochina au un climat:  
a. mediteranean              b. musonic                      c. temperat                      d. tropical uscat
3. Se desprind radiar mai multe lanțuri montane din:  
a. Himalaya                      b. Pamir                          c. Tibet                              d. Ural
4. Fluviile Tigris și Eufrat se varsă în:  
a. Golful Aden                  b. Golful Bengal                  c. Golful Persic                  d. Golful Oman
5. Cea mai mare altitudine din Asia o are vârful:  
a. Ararat                          b. Chomolungma                  c. Elbrus                              d. K2
6. Cea mai mare insulă din Arhipelagul Indonezian este:  
a. Kalimantan                  b. Jawa                              c. Sulawesi                          d. Sumatra
7. Cea mai mare cantitate de precipitații într-un an se înregistrează în:  
a. Anatolia                          b. Arabia                              c. Assam                              d. Siberia
8. În nord-vestul peninsulei India se află deșertul:  
a. Arabiei                          b. Gobi                                  c. Takla Makan                  d. Thar
9. Cea mai veche capitală din lume, aflată încă în funcție, este orașul numit:  
a. Bagdad                          b. Beirut                              c. Damasc                          d. Teheran
10. Cea mai mare centrală maree – motrică din lume se află în statul numit:  
a. China                              b. Coreea de Nord                  c. Coreea de Sud                  d. India

**SUBIECTUL II**

**(22 puncte)**

**Analizați cu atenție harta de mai jos. Precizați:**

1. numele insulei, notate pe hartă, cu cifra **1**;
2. denumirea lacului, notat pe hartă, cu cifra **2** și tipul acestuia după modul de formare;
3. numele orogenezei în care s-au format munții, notați pe hartă, cu cifra **3**;
4. numele unității de relief, notată pe hartă, cu cifra **4** și râului/fluviului care o străbate;
5. numele unității de relief notată cu cifra **5**;
6. numele golfului în care se varsă fluviul, notat pe hartă, cu cifra **6**;
7. numele insulelor situate în partea de NE și SV de guria de vărsare a fluviului, notat pe hartă, cu cifra **10**;
8. tipul de regiune după caracteristicile rețelei hidrografice al arealului în care se varsă râul, notat pe hartă, cu cifra **11**;
9. numele peninsulei traversată de fluviul a cărui gură de vărsare este notată, pe hartă, cu cifra **8**. Precizați tipul gurii de de vărsare.
10. numele râului notat pe hartă, cu cifra **9**;
11. denumirea unității de relief, notate pe hartă, cu litera **B** și a statului în aceasta se întinde;



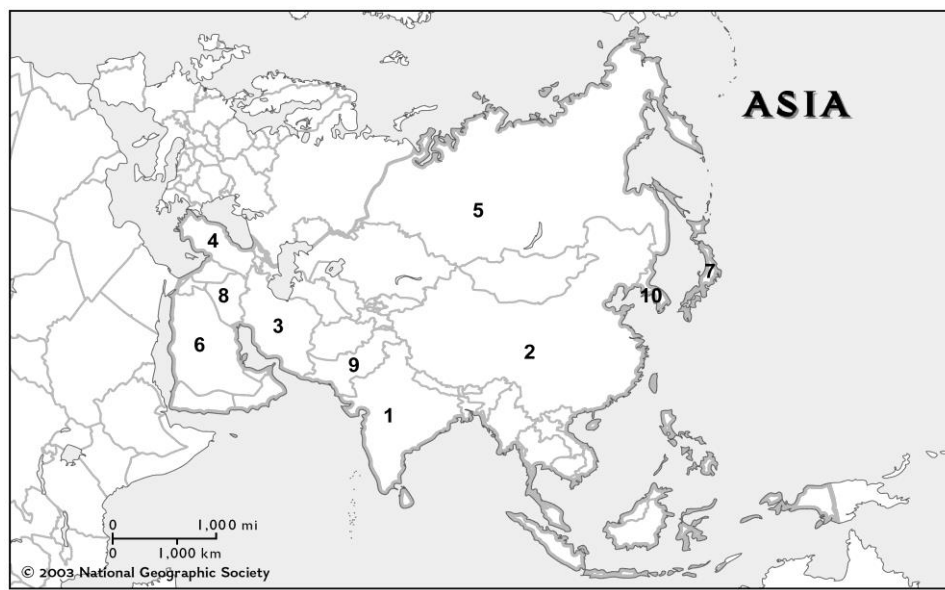
12. denumirea podișurilor/ deșerturilor notate cu literele C și D.
13. denumirea munților notați cu litera E și tipul de vegetație specific peninsulei în care se află.
14. denumirea peninsulei notate cu litera F, precum și climatul acesteia.


### SUBIECTUL III

(20 puncte)

**Analizați cu atenție harta de mai jos și răspundeți următoarelor cerințe:**

- a. identificați statele, notate pe hartă, cu cifre de la 1 la 4;
- b. precizați capitalele statelor, notate pe hartă, cu cifre de la 5 la 8;
- c. precizați religia dominantă din statul, marcat pe hartă, cu cifra 9;
- d. pentru statul marcat pe hartă cu cifra 7, precizați:
  1. numele unei aglomerări urbane/megalopolis de pe teritoriul statului;
  2. numele insulei în care este localizat megalopolisul;
  3. numele a trei nuclee urbane/orașe componente;
- e. precizați o resursă de subsol comună statelor, marcate pe hartă, cu cifrele 3, 6 și 8 ;
- f. denumirea celui mai mare oraș ca număr de locuitori, din statul marcat pe hartă, cu cifra 4, precum și specificul localizării acestuia;
- g. precizați rasa și două caracteristici ale acesteia, pentru populația din statele ce ocupă peninsula, notată pe hartă cu numărul 10.





**A. Imaginile de mai sus prezintă culturile a două plante cu o importanță economică deosebită pentru unele state asiatice. Precizați:**

1. denumirea culturilor la care fac referire cele două imagini, **A** și **B**;
2. câte două state în care aceste culturi au o pondere importantă;
3. un factor major ce influențează cultura agricolă prezentată în imaginea **A**;
4. un mod de amenajare a terenului pentru cele două culturi.

**B. Imaginile de mai jos sunt reprezentative pentru orașele turistice din Asia. Analizați imaginile și precizați:**



- a. denumirea și statul în care este localizată construcția din imaginea notată cu cifra **1**;
- b. numele orașului în care este localizat obiectivul turistic din imaginea notată cu cifra **3**;
- c. denumirea obiectivului din imaginea **2** și statul în care este localizat;
- d. tipul de lăcaș de cult corespunzător imaginii, notate cu cifra **4**.

## SUBIECTUL V

(8 puncte)

**Explicați, precizând un argument:**

- a. valoarea densității populație ( $2 \text{ loc}/\text{km}^2$ ) din Mongolia;
- b. apariția deșerturilor temperate din Asia.
- c. altitudinea munților Himalaya.
- d. caracterul mlăștinos al Câmpiei Siberiei de Vest.